


Contrôle de géométrie : droites parallèles, perpendiculaires

	A	PA	ECA	NA
Savoir reconnaître et tracer deux droites perpendiculaires				
Savoir reconnaître et tracer deux droites parallèles				

A = Acquis
 PA = Presque acquis
 ECA = En cours d'Acquisition
 NA = Non Acquis

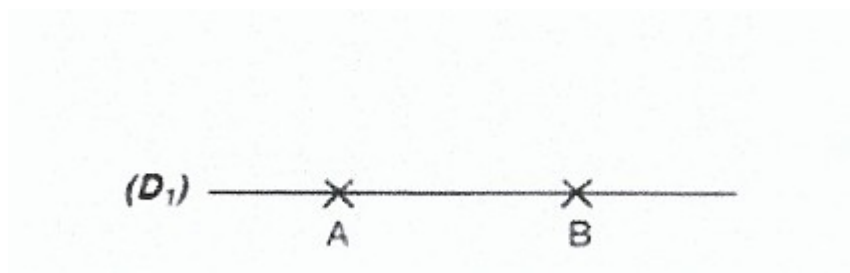
- 1) Repasse en rouge les perpendiculaires à (D₁).
Repasse en vert les parallèles à (D₁).

/2,5



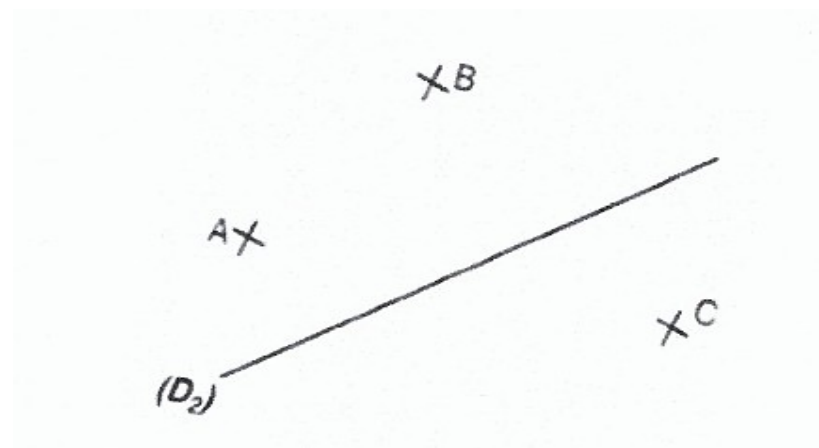
- 2) Trace les perpendiculaires à (D₁) en passant par les points A et B.

/2



- 3) Trace les perpendiculaires à (D₂) en passant par les points A, B et C.

/3



- 4) Trace la parallèle à (AB) en passant par le point D.

/2

